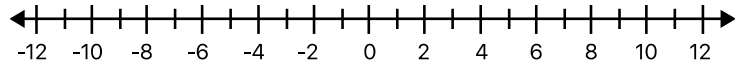


INTERVALOS PUNTO MEDIO

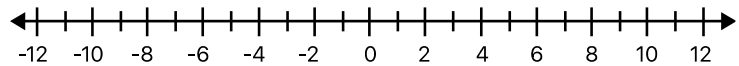
Mat. _____ Nombre: _____ Grupo _____

III. Resuelve la siguiente inecuación y representa la solución en forma de intervalo y en forma gráfica. **El Punto Medio**

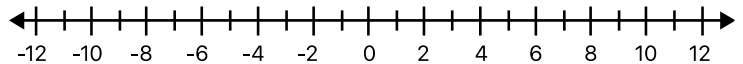
$$-4 \leq x \leq 2$$



b) $-6 \leq 2x - 4 \leq 2$



$$-10 \leq 5x - 2 \leq 8$$



Proverbios 1:6 Porque Jehová da la sabiduría, Y de su boca viene el conocimiento y la inteligencia